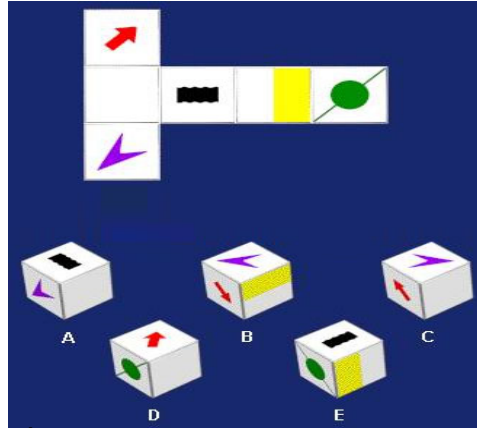


CÔNG TY CỔ PHẦN ĐẦU TƯ' FTC VIỆT NAM
CÂU HỎI TEST IQ THÔNG THƯỜNG

01. Bạn cho biết công thức hoá học của vàng là gì ?

- a. Ar b. Au c. Al d. Ag e. As


02.



Gấp miêng bìa trên ta được hình hộp nào phía dưới?

- a. A b. B c. C d. D e. E

03.



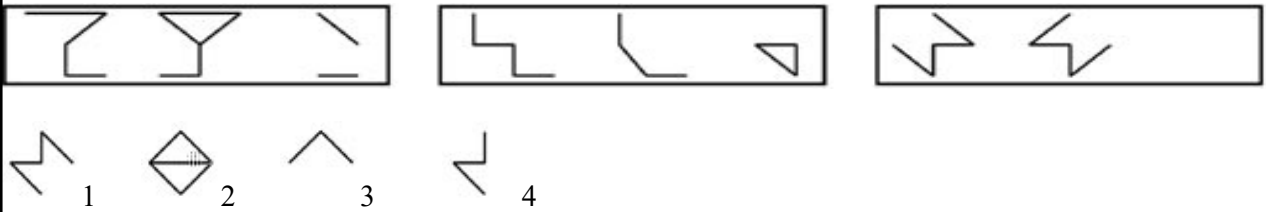
Trong vòng 10g giây bạn đếm được bao nhiêu hình lục giác đều ở hình phía trên?

- a. 20 b. 23 c. 27 d. 30

04. Mối quan hệ giữa ruột đối với ngũ cốc tương tự như bao thư đối với :

- a. Thư b. Túi đưa thư c. Người đưa thư d. Tem e. Hộp thư

05.



- a. 2 b. 3 c. 4 d. 1

CÔNG TY CỔ PHẦN ĐẦU TƯ' FTC VIỆT NAM

06. Tìm hình logic thứ 4 của chuỗi hình dưới

A B C D E

- a. Hình A b. Hình B c. Hình C d. Hình D e. Hình E

07. Tìm hình còn thiếu trong hình bát giác trên.

A B C D E

- a. Hình A b. Hình B c. Hình C d. Hình D e. Hình E

08. Từ nào ít giống với từ còn lại nhất?

- a. Chó b. Gấu c. Hồ d. Rắn e. Bò

09. Ký tự tiếp theo của dãy ký tự A, D, G, J là gì?

- a. K b. M c. N d. P e. R

10. Tìm hình logic

1 2 3 4

- a. 1 b. 2 c. 3 d. 4

11. Tìm hình thích hợp

A B C D E

- a. Hình A b. Hình B c. Hình C d. Hình D e. Hình E

CÔNG TY CỔ PHẦN ĐẦU TƯ FTC VIỆT NAM

12 Số tiếp theo của dãy số 1, 1, 2, 3, 5 ?

- a. 6 b. 7 c. 8 d. 9 e. 10

13

2	4	7
3	3	8
5	2	x

Hãy tìm số x: a. 1 b. 6 c. 9 d. 10 e. 12

Hệ thống bánh răng được thiết lập và nối với nhau bởi dây cu-roa như hình hình vẽ trên, khi quay 1 bánh răng theo chiều kim đồng hồ thì hệ thống trên có hoạt động được không (cả bốn bánh răng cùng quay)?

a. Có b. Không

15 Tuấn cao hơn Nam, Bình thấp hơn Tuấn. Câu nào đúng nhất:

- a. Bình thấp hơn Nam b. Bình cao hơn Nam c. Bình cao bằng Nam
- d. Không nói được là Bình hay Nam cao hơn

Tìm hình logic còn thiếu của hình dưới

A

B

C

D

E

F

- a. Hình A b. Hình B c. Hình C d. Hình D e. Hình E

17 Nếu bạn nhìn vào gương và lấy tay phải sờ vào tai trái khi đó hình của bạn qua gương sẽ giống như tay trái sờ vào tai phải. Đúng hay sai?

- a. Đúng b. Sai

CÔNG TY CỔ PHẦN ĐẦU TƯ' FTC VIỆT NAM

18 Bạn cho biết Copernicus đã nổi tiếng trong lĩnh vực nào ?

- a. Hội hoạ b. Toán học c. Vật Lý d. Thiên văn học e. Âm nhạc

19



Tìm hình logic với dãy hình trên

- a. 1 b. 2 c. 3 d. 4

20 Hãy tìm số tiếp theo của dãy số: 1, 5, 13, 25, ?

- a. 36 b. 41 c. 49 d. 62

Yêu cầu:

**Các bạn không được sử dụng tài liệu hoặc bàn tán.
Thời gian làm bài là 15 phút kể từ khi phát đề.**

Điểm	Lời phê của Bộ phận NS
Duyệt của Doanh nghiệp	